

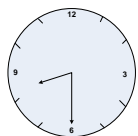


PEMERINTAH KABUPATEN LUMAJANG
DINAS PENDIDIKAN
UPT PENDIDIKAN KECAMATAN SENDURO
UJI KOMPETENSI SEMESTER II SD
TAHUN PELAJARAN 2008 / 2009

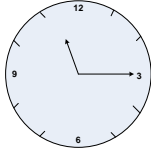
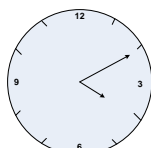
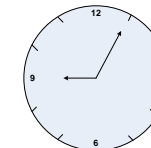
Mata Pelajaran	: Matematika	Nama	: _____
Kelas	: III (Tiga)	Nomor	: _____
Hari / Tanggal	: Rabu, 17 Juni 2009	Nilai	: <input type="text"/>
Waktu	: 07.30 – 09.30		

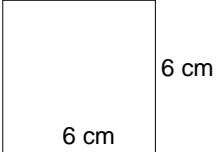
I. Berilah tanda silang (x) pada huruf a, b, c dan d di depan jawaban yang paling benar !

- Panjang rambut Hani adalah 58 cm, jika di taksir maka panjang rambut Hani kira-kira ... cm
a. 50 cm b. 55 cm c. 60 cm d. 65 cm
- Berat sebuah batu adalah 42 kg, jika di taksir, maka berat sebuah batu kira-kira ... kg
a. 35 kg b. 40 kg c. 45 kg d. 50 kg
- Ayah berangkat kerja pukul 08.00 WIB dan pulang kerja pukul 16.00 WIB ayah bekerja selama ... jam
a. 6 jam b. 7 jam c. 8 jam d. 9 jam
- Sekarang pukul 05.00 WIB, 3 jam kemudian pukul
a. 02.00 WIB b. 08.00 WIB c. 09.00 WIB d. 11.00 WIB
- Berat badan Ari 18 kg, berat badan Ami lebih berat 5 kg dari berat badan Ari, maka berat badan Ami ... kg
a. 13 kg b. 18 kg c. 23 kg d. 90 kg




6. Jarum jam di samping menunjukkan pukul....
a. 07.30 b. 08.15 c. 08.30 d. 09.00

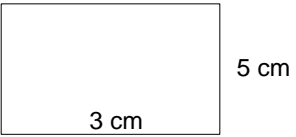
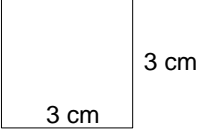
-  Jarum jam di samping dibaca pukul
a. Tiga seperempat c. Sepuluh seperempat
b. Sembilan seperempat d. Sebelas seperempat
-  Jarum jam di samping ditulis pukul....
a. 01.20 b. 04.05 c. 04.10 d. 20.05
-  Jarum jam di samping dibaca pukul
a. Satu seperempat c. Sembilan lima menit
b. Satu empat lima d. Sepuluh lima menit
- 1 minggu diawali hari Senin sampai hari
a. Selasa b. Rabu c. Sabtu d. Minggu
- 3 tahun + 4 bulan = ... bulan
a. 7 bulan b. 36 bulan c. 40 bulan d. 42 bulan
- 20 bulan + 4 bulan = ... tahun
a. 2 tahun b. 16 tahun c. 24 tahun d. 80 tahun
- Toni berlari sejauh 2 km. Jarak yang ditempuh Toni adalah ... m.
a. 20 m b. 200 m c. 2000 m d. 20.000 m
- Sudut yang lebih kecil dari pada sudut siku-siku disebut sudut
a. lancip b. siku-siku c. tumpul d. Semua benar
- 8 kg bila dijadikan ons menjadi
a. 8 ons b. 80 ons c. 800 ons d. 8000 ons
- 40 ons = ... gram
a. 4 gram b. 40 gram c. 400 gram d. 4000 gram

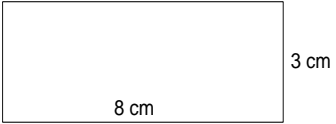
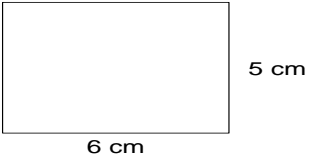
17.  Keliling bangun datar disamping adalah
 a. 12 cm b. 18 cm c. 24 cm d. 36 cm

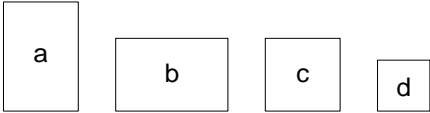
18. Linda membeli 5 ons tepung terigu, tepung terigu yang di beli Linda ... gram
 a. 5 b. 50 c. 500 d. 5000

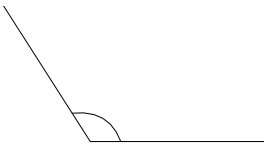
19.  Luas bangun di samping adalah
 a. 18 b. 36 c. 70 d. 77


20. Yang bukan sifat-sifat bangun datar persegi panjang adalah
 a. Ketiga sisi sama panjang c. Sisi yang berhadapan sama
 b. Mempunyai empat sisi d. Keempat pojoknya siku

21.  ... 
 a. > b. < c. = d. ≤

22.  . . . 
 a. > b. < c. = d. ≥

23.  Urutan bangun dari luasnya paling kecil adalah....
 a. dcab b. bcad c. cabd d. bdac

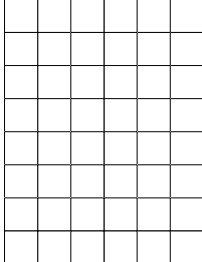
24.  Gambar di samping merupakan sudut
 a. siku-siku c. Tumpul
 b. lancip d. Semua benar

25.  Luas bangun di samping adalah
 a. 2 cm c. 24 cm
 b. 12 cm d. 35 cm

II. Isilah titik di bawah ini dengan benar !


26. Jarak Kecamatan Senduro – Lumajang 17 km. Jarak Senduro Lumajang ... m

27. P. Samsul membuat susu kedelai, untuk membuat susu kedelai ia membeli 100 ons kedelai, kedelai yang dibeli P. Samsul ... kg

28.  Keliling bangun disamping adalah

29. Kebun Pak Arif berbentuk persegi. sisinya 65 m maka keliling kebun Pak Arif ... m

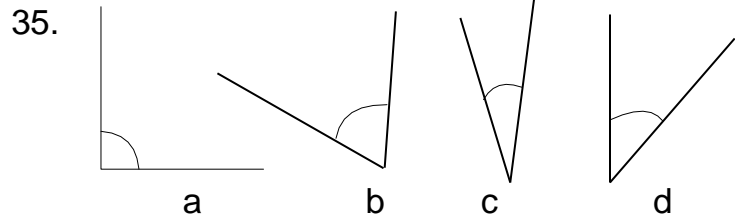
30. Sebidang tanah lapang berbentuk persegi panjang. Mempunyai panjang 90 m dan lebar 62 maka keliling tanah lapang adalah

31.  Bangun disamping adalah bangun

32. Selembur kertas berbentuk persegi panjang. Dengan panjang 35 cm dan lebar 18 cm keliling kertas adalah ... cm

33. Sebuah meja memiliki ukuran sisi sama panjang yaitu 24 cm luas meja adalah ... cm²

34. Contoh gambar jajar genjang adalah



Urutkan dari sudut yang terbesar adalah

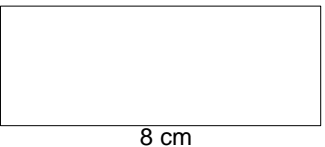
III. Jawablah Pertanyaan Dibawah Ini Dengan Jawaban Yang Benar !

36. Kak Nina menempuh perjalanan selama 4 jam. Ia sampai pukul 12.30 WIB. Pukul berapa kak Nina berangkat ?

37. Jarak antara rumah Anti dan Diki adalah 8 km. Berapa dm jarak rumah Anti dan Diki ?

38. Lantai ruang pertemuan berbentuk persegi. panjang sisinya adalah 27 m. Berapa m keliling lantai ruang pertemuan ?

39. Sebuah papan tulis memiliki panjang 18 cm dan lebar 9 cm. Berapakah keliling papan tulis ?

40.  Berapakah Keliling persegi panjang disamping ?

41. Rina membeli gula 10 kg. Gula tersebut dikemas tiap ons. berapa ons gula yang di beli Rina ?

42. Fani berusia 4 bulan. Berat badan Fani sekarang adalah 7 kg. berapa ons berat badan Fani ?

43. Romeo menanam 200 kg cabe merah, cabe tersebut di kemas tiap 1 ons. Berapa ons cabe merah yang di panen Romeo ?

44. Gambarlah bangun datar persegi panjang sesuai dengan sifat-sifatnya !

45. Gambarlah bangun datar trapesium sesuai dengan sifatnya !