


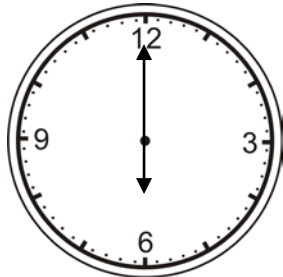
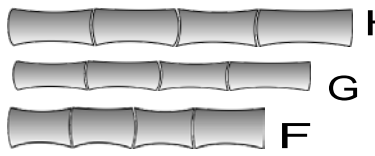
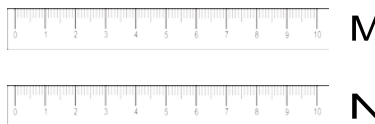


PEMERINTAH KABUPATEN LUMAJANG
DINAS PENDIDIKAN
UPT PENDIDIKAN KECAMATAN SENDURO
UJI KOMPETENSI SEMESTER I SD
TAHUN PELAJARAN 2009/2010

Mata Pelajaran :	Nama Peserta :
Kelas :	Nomor Absen :
Hari / Tanggal :	Nilai : <input style="width: 80px; height: 30px;" type="text"/>
Waktu : 90 menit	

I. Berilah tanda silang (X) pada huruf a, b, atau c di depan jawaban yang paling benar !

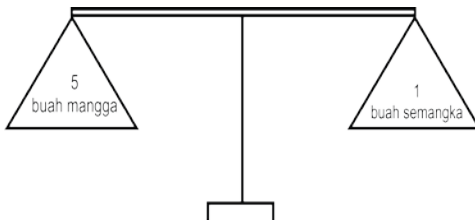
1. 125 135, 140, 145
Bilangan yang tepat untuk mengisi titik-titik di atas adalah
a. 126 b. 130 c. 131
2. Nilai tempat angka 3 pada bilangan 375 adalah
a. ratusan b. puluhan c. satuan
3. Indra mempunyai 23 kelereng. Diberikan kepada Andika 11 kelereng. Sisa kelereng Indra adalah
a. 11 b. 12 c. 13
4.  Panjang kayu pada gambar di samping adalah . . . jengkal.
a. 2
b. 3
c. 4
5. Kertas merupakan contoh benda
a. ringan b. berat c. semua benar
6. $346 + 38 = \dots$
a. 348 b. 130 c. 131

7. $326 \dots 346$
a. < b. > c. =
8.  Jam di samping menunjukkan pukul
a. 06.00
b. 07.00
c. 12.00
9.  Bambu yang paling pendek adalah
a. F
b. G
c. H
10. $425 \dots 415$
a. lebih kecil b. lebih besar c. sama
11. 27
 15
16 +
. . . .
a. 56 b. 57 c. 58
12. Ibu memasak mulai pukul 9 pagi. Selesai memasak pukul 11 siang. Ibu memasak selama . . . jam
a. 1 jam b. 2 jam c. 3 jam
13. Menimbang gula pasir di warung menggunakan
a. timbangan gantung
b. timbangan kodok
c. timbangan digital
14.  Penggaris N . . . penggaris M
a. lebih panjang
b. lebih pendek
c. sama panjang

15. Di dalam toples adik ada 170 permen. Ibu membeli lagi 25 permen. Jumlah permen adik dan ibu adalah
 a. 190 b. 195 c. 196

16. $200 \dots 200$
 a. < b. > c. =

17. Nilai tempat angka 6 pada bilangan 176 adalah
 a. ratusan b. puluhan c. satuan

18.  Buah mangga . . . buah semangka
 a. lebih ringan
 b. lebih berat
 c. sama berat


19. $87 - 33 - 41 = \dots$
 a. 11 b. 12 c. 13

20. 60, 160, 260, 360, 460
 Urutan bilangan-bilangan di atas dari angka yang terbesar adalah
 a. 60, 160, 260, 360, 460
 b. 460, 360, 260, 160, 60
 c. 60, 360, 160, 260, 460

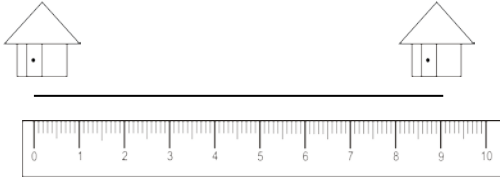
21. Ani mempunyai pensil 25. Arul mempunyai pensil 25. Jadi jumlah pensil Ani . . . pensil Arul.
 a. lebih kecil b. lebih besar c. sama dengan

22. 487
 $\underline{124}$ _

 a. 336 b. 363 c. 366


23.  Pensil W . . . dari pensil V
 a. lebih pendek
 b. lebih panjang
 c. sama dengan

24. $399 \dots 389$
 a. < b. > c. =

25.  Panjang jalan dari rumah Indra ke rumah Rina adalah
 a. 7 m b. 8 m c. 9 m

II. Isilah titik-titik di bawah ini dengan jawaban yang singkat dan tepat !

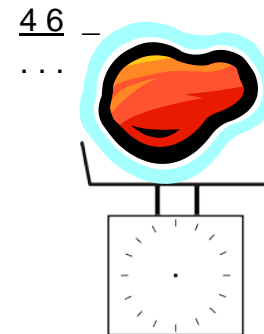
26. Ibu mempunyai 250 telur, kemudian ibu membeli lagi 125 telur. Jumlah telur ibu adalah

27.  Andika bermain sepak bola pukul 4 sore. Jarum jam yang tepat untuk menunjukkan pukul 04.00 adalah

28. Contoh benda berat yang ada di rumahmu adalah

29. 430 lebih . . . dari 440.

30. 92



31. = 20 ons = . . . Kg

32. Gambar jam yang sesuai untuk menunjukkan pukul 12.00 adalah

33. Ayah mempunyai ikan gurami sebanyak 352 ekor, terjual 52 ekor. Sisa ikan gurami ayah adalah

34. Nilai tempat angka 2 pada bilangan 429 adalah

35.  = . . . Kg
 20 ons 20 ons

