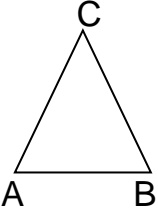
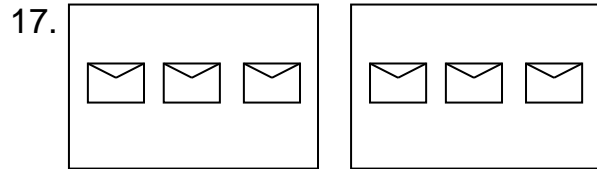


15.  Jumlah titik sudut bangun disamping adalah

- a. 2 b. 3 c. 4

16. Ibu membeli 2 plastik kue. Satu plastik berisi 6 kue. Kemudian dibagikan pada Sela, Fina dan Fitri masing-masing mendapat

- a. 3 b. 4 c. 6

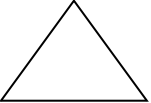


Berdasarkan gambar di atas $6 : 2 =$

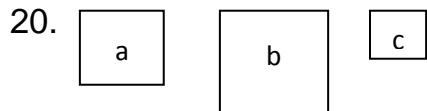
- a. 2 b. 3 c. 6

18. Adi membeli 10 bungkus permen. Adik mengambil permen Adi sebanyak 2 bungkus. Sisa permen Adi sebanyak . . . bungkus.

- a. 7 b. 8 c. 6


19.  Bangun di samping berbentuk

- a. Segitiga b. Segiempat c. Lingkaran




Urutan bangun segiempat dari yang terbesar adalah

- a. $c - a - b$ b. $a - b - c$ c. $b - a - c$

21.  Jumlah sisi bangun di samping adalah


- a. 1 b. 2 c. 3

22.  Sisi yang berhadapan sama panjang dari bangun di samping adalah

- a. MN dan KN b. KM dan LN c. LM dan KN

23. Hasil dari 5×10 adalah

- a. 15 b. 50 c. 60

24.  Salah satu sisi dari gambar disamping adalah

- a. FG b. GE c. FH

25. Persegi panjang mempunyai . . . sudut

- a. 1 b. 2 c. 4

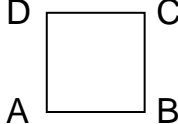
II. Isilah titik-titik di bawah ini dengan jawaban yang singkat dan benar !

26. $24 - 8 - 8 - 8 = 0$ $24 : . . . =$

27. $36 : (6 + 3) \times 2 - 5 =$

28.  Sisi dari gambar disamping adalah

29. Caca mempunyai 3 keranjang. Setiap keranjang berisi 2 anak kucing. Tiba-tiba datang 2 anak kucing lagi. Jumlah anak kucing seluruhnya adalah

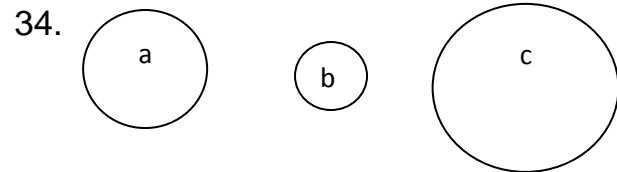
30.  Titik sudut bangun di samping adalah

31. Suatu ruangan dapat menampung 10 kursi. Jika terdapat 40 kursi, ruangan yang dibutuhkan adalah



Pola dari barisan bangun datar di atas adalah

33. Dihari ulang tahun Jihan, Ibu menyediakan 2 kardus kue tart, bila setiap kardus berisi 15 kue tart. Jumlah seluruh kue tart adalah



Urutan bangun lingkaran dari yang terkecil adalah

35. Hasil dari 40×0 adalah