

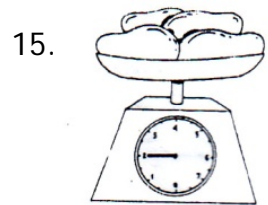




Pensil ... Bolpoin


- a. Lebih panjang daripada
- b. Sama panjang dengan
- c. Lebih pendek daripada

14. Untuk mengukur lingkar pinggang digunakan ....
- a. Meteran plastik
  - b. Meteran rol
  - c. Pengaris kayu



Berat mangga adalah ....

- a. 2 kg
- b. 2.5 kg
- c. 3 kg



Kertas ... daripada buku

- a. Lebih berat
- b. sama berat
- c. lebih ringan



Nama gambar disamping adalah timbangan ....

- a. Timbangan rumah tangga
- b. Timbangan berat badan
- c. Timbangan gantung

18.  $130 + 177 + 123 = \dots$

- a. 360
- b. 370
- c. 430

19.  $249 + 135 = \dots$

- a. 384
- b. 386
- c. 394

20.  $158 - 45 = \dots$

- a. 103
- b. 105
- c. 113

21.  $215 + 159 - 146 = \dots$

- a. 218
- b. 228
- c. 238

22.  $245 \dots 252$ . Tanda pembandingan yang tepat untuk titik – titik disamping adalah ....

- a.  $<$
- b.  $=$
- c.  $>$

23. Keisha mempunyai 412 ikat bunga, diberikan pada Naufal 245 ikat. Bunga Keisha sekarang ada ... ikat.

- a. 147
- b. 157
- c. 167

24.  $12 \text{ kg} + 6 \text{ kg} = \dots \text{ kg}$

- a. 6 kg
- b. 14 kg
- c. 18 kg

25. Disebut bilangan genap, jika angka terakhirnya berupa bilangan ....

- a. 0, 2, 4, 6, 8
- b. 1, 3, 5, 7, 9
- c. 2, 3, 4, 5

**II. Isilah titik – titik dibawah ini dengan jawaban yang tepat !**

26. Urutkan bilangan dari yang terbesar !

{ 312, 309, 313, 311, 315, 310, 314 }

27. Pada bilangan 245, tempat ratusan ditempati oleh angka ....

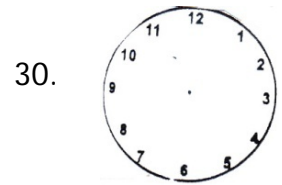
28. 
$$\begin{array}{r} 382 \\ 129 \\ \hline \dots \end{array}$$

29.  $269 + 135 =$

$269 = \dots + \dots + \dots$

$135 = \dots + \dots + \dots$   
 $\hline \dots + \dots + \dots$  +

$= \dots$



Gambarlah jarum jam yang menunjukkan pukul 02.00 !



Gambar jam disamping menunjukkan pukul ....

32. Sekarang pukul 09.00 dua jam lagi pukul ....

33. 102, 418, 243 . di antara bilangan tersebut yang termasuk bilangan ganjil

....

34. 
$$\begin{array}{r} 114 \\ 213 \\ 136 \\ \hline \dots \end{array}$$
 +

35. 7 kg = ... Ons