





**PEMERINTAH KABUPATEN LUMAJANG
DINAS PENDIDIKAN
UPT PENDIDIKAN KECAMATAN SENDURO
UJI KOMPETENSI SEMESTER I SD
TAHUN PELAJARAN 2011 / 2012**

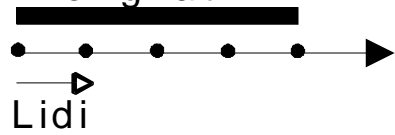
Mata Pelajaran : Matematika Nama : _____
Kelas : II / (Dua) Kelas : _____
Hari / Tanggal : Nilai : _____
Waktu : _____

I. Berilah tanda silang (X) pada huruf a, b, c atau d pada jawaban yang paling benar.

1.  
75 Mangga 100 Bola
- Banyak mangga ... daripada bola
a. lebih banyak b. lebih sedikit c. sama banyak
2. 197 ... 183
a. lebih banyak b. lebih sedikit c. sama banyak
3. Pasangan bilangan yang benar adalah
a. $193 = 391$ b. $396 > 269$ c. $253 < 235$
4. 329 ... 392
Tanda yang tepat untuk mengisi titi-titik adalah
a. $>$ b. $<$ c. $=$

5. Susunan bilangan dari yang terkecil ke yang terbesar adalah
a. 310, 311, 316, 309, 315, 312
b. 320, 335, 340, 325, 330, 305
c. 135, 137, 138, 140, 141, 142
6. Susunan bilangan locat dua-dua dibawah ini adalah
a. 61, 62, 63, 64, 65
b. 61, 63, 65, 67, 69
c. 61, 63, 67, 69, 72
7. Susunan bilangan dari yang terbesar ke bilangan yang terkecil adalah
a. 429, 420, 427, 422, 428, 425
b. 429, 428, 427, 425, 422, 420
c. 429, 428, 427, 420, 425, 422
8. Deretan bilangan dibawah ini yang termasuk bilangan ganjil adalah
a. 193, 191, 189, 187, 185
b. 192, 190, 188, 186, 184
c. 188, 187, 186, 185, 184
9. Angka 2 pada bilangan 271 nilai tempatnya adalah
a. 2 satuan (2) b. 2 puluhan (20) c. 2 ratusan (200)
10. Angka 8 pada bilangan 786 menempati tempat
a. satuan b. puluhan c. ratusan
11. Bentuk panjang dari 69 adalah
a. $60 + 9$ b. $60 + 90$ c. $600 + 9$

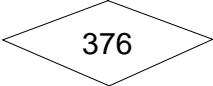
27. Tongkat



Panjang tongkat = ... x panjang lidi

28. 3 m = ... cm

29. Susun bilangan ini dari yang terkecil ke yang terbesar
152, 176, 128, 178, 268, 200 adalah

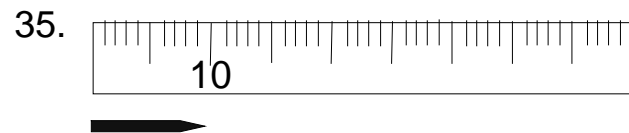
30.  lambang bilangan ini dibaca

31. 479 ... 500
Simbol yang tepat untuk bilangan diatas adalah

32. Satu hari satu malam ada ... jam

33. Jika berat 1 buah apel 2 ons,
maka berat 3 apel kira-kira ... Ons

34. $52 = \dots + \dots$
 $37 = \dots + \dots + \dots$
 $= \dots + \dots$
 $= \dots$



Ujung pensil tepat berada diangka 10, artinya panjang pensil adalah ... cm