



**PEMERINTAH KABUPATEN LUMAJANG
DINAS PENDIDIKAN
UPTD PENDIDIKAN KEC. SENDURO
UJI KOMPETISI SEMESTER IISD
TAHUN PELAJARAN 2008 / 2009**


Mata pelajaran : Matematika Nama :

Kelas : I (satu) Nomor :

Hari / Tanggal : Kamis, 18 Juni 2009 Nilai :

Waktu : 07.00 – 08.30

I. Berilah tanda silang (X) pada huruf a, b, dan c di depan jawaban yang paling benar !

1.  Banyak benda pada gambar disamping adalah
a. 20 b. 25 c. 30

2. Lambang bilangan dari enam puluh sembilan adalah
a. 67 b. 69 c. 96



Pada gambar di atas jumlah benda yang paling banyak adalah
a. Bola b. Sepeda motor c. Boneka

4.
Bilangan yang tepat untuk kotak ketiga adalah ...

a. 75 b. 86 c. 90

5. Sebelum bilangan 79 adalah bilangan

a. 77 b. 78 c. 80

6. 26, 30, 23, 28, 21

Bilangan diatas jika diurutkan dari yang terkecil sampai terbesar adalah

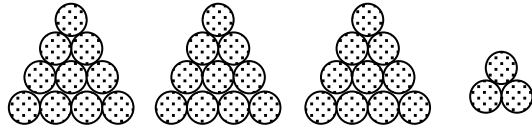
a. 30, 28, 26, 23, 21 b. 21, 23, 26, 28, 30 c. 23, 21, 26, 30, 28

7. Pada bilangan 47, angka yang menempati nilai tempat puluhan adalah

a. 4 b. 7 c. 8

8. Pada bilangan 91, angka yang menempati nilai tempat satuan adalah

a. 1 b. 8 c. 9

9. 
Pada gambar di atas nilai puluhan adalah

a. 1 b. 2 c. 3

10. $27 + 32 = \dots$

Nilai puluhan hasil operasi diatas adalah


a. 4 b. 5 c. 9

11. $45 + 43 = \dots$



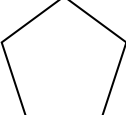
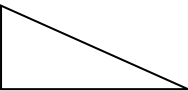
a. 79 b. 88 c. 97

12. $\frac{98}{27} - \dots$
 a. 70 b. 71 c. 76
13. $23 + 16 = \dots + 23$
 a. 16 b. 23 c. 39
14. Kakak mempunyai 45 kelereng. Adik mempunyai 24 kelereng. Jumlah kelereng kakak dan adik ada ... butir
 a. 21 b. 69 c. 71
15. Benda yang lebih ringan adalah
 a. Album b. Buku tulis c. Sehelai kertas.
16. Benda di ruang kelas yang lebih berat adalah
 a. Meja b. Kursi c. Almari
17. Ima membawa 2 buah mangga. Ani membawa 2 buah salak. Santi membawa 2 buah duku. Buah yang paling berat kepunyaan
 a. Santi b. Ima c. Ani


18. Perhatikan gambar !



- Benda yang paling ringan adalah
 a. Salak b. Pepaya c. Salak dan pepaya
19. Ibu membeli 25 kg gula. Ani membeli beras 32 kg. Nenek membeli jagung 23 kg. Yang paling berat belanja kepunyaan
 a. Ibu b. Ani c. Nenek

20. Bangun yang sisinya ada tiga disebut bangun
 a. Segi lima b. Segi empat c. Segi tiga
21. Bangun di bawah ini yang mempunyai empat sisi yaitu
 a.  b.  c. 
22. Benda yang berbentuk lingkaran adalah
 a. Bola b. Cincin c. Kelereng
23. Kelompok benda yang bentuknya segi empat adalah
 a. Kulkas, keramik b. Keramik, eternit c. Almari, keramik
24.  Gambar disamping bentuknya
 a. Persegi b. Segi tiga c. Segi empat
25. Sisi bangun lingkaran ada
 a. Satu b. Dua c. Tiga

II. **Isilah titik-titik dibawah ini dengan jawaban yang singkat dan benar !**



- Jumlah anggur dari jumlah tomat
27. Bilangan 71, 80, 76, 74, 79 jika diurutkan dari yang terbesar adalah
28. $99 - 21 = \dots$
 Nilai satuan hasil operasi diatas adalah

29. $63 - 41 = \dots$

30.
$$\begin{array}{r} 57 \\ \underline{21} + \\ \dots \end{array}$$

31. $(13 + 21) + 46 = \dots + (21 + 46)$

32. Di dalam kolam terdapat 78 ekor ikan lele. Dipancing untuk dimasak 45 ekor. Sisa ikan lele didalam kolam ada ... ekor

33. Alat untuk mengukur berat benda disebut

34. Berat piring sama dengan 5 bola. Berat gelas sama dengan 4 bola. Maka . . . lebih berat dari pada . . .

35. Aminah mempunyai telur puyuh 21 kg. Eli mempunyai telur ayam 17 kg. Umi mempunyai telur itik 1 kg. Maka berat telur seluruhnya adalah . . . kg