


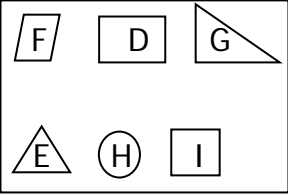



12. Di meja ada 30 apel, 36 salak, 22 nanas, 39 rambutan.
Urutan buah dari yang paling banyak adalah
- rambutan, salak, apel, nanas
 - rambutan, apel, salak, nanas
 - nanas, apel, salak, rambutan

13. Berat 1 buah melon = 5 buah apel
Berat 1 buah semangka = 6 buah apel
Jadi yang lebih berat adalah
- apel
 - Melon
 - semangka

14. Bangun yang mempunyai tiga sisi yaitu
- 
 - 
 - 

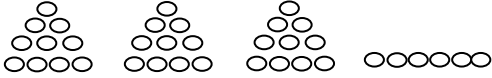
15.  Pada gambar disamping yang menunjukkan bangun segiempat adalah
- D, E, F
 - D, F, I
 - F, H, I

16. 
- Yang paling banyak adalah
- strawberry
 - apel
 - jeruk

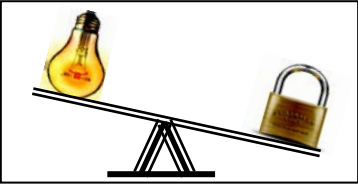
17. Kelinci kakak 28 ekor. Ada yang mati 3 ekor. Kakak membeli lagi 5 ekor. Kelinci kakak sekarang ada
- $28 + 3 + 5 = 36$
 - $28 + 3 - 5 = 26$
 - $28 - 3 + 5 = 30$

18. Berat 1 bola = 5 kelereng
Maka berat 3 bola = . . . kelereng.
Bilangan yang tepat adalah
- 8
 - 15
 - 20

19. Di dapur ada cobek, piring dan sendok.
Urutan dari yang paling ringan adalah
- piring, sendok, cobek
 - sendok, cobek, piring
 - sendok, piring, cobek

20.  Bentuk penjumlahan yang tepat adalah
- $30 \text{ puluhan} + 6 \text{ satuan} = 36$
 - $3 \text{ puluhan} + 6 \text{ satuan} = 36$
 - $6 \text{ puluhan} + 3 \text{ satuan} = 36$

21. Pada bilangan 60, angka 0 menempati
- ratusan
 - puluhan
 - satuan
22. Ani membawa pensil, Cinta membawa pisau dan Kiki membawa tas.
Benda yang paling berat dibawa oleh
- Cinta
 - Ani
 - Kiki
23. Benda – benda dibawah ini yang berbentuk lingkaran adalah
- uang logam, tutup gelas, cincin
 - bola, kelereng, gelas
 - telor, roda, apel
24. Bilangan loncat dibawah ini yang paling benar adalah
- 20, 22, 23, 35, 37
 - 20, 22, 24, 25, 26
 - 20, 22, 24, 26, 28

25.  Pernyataan yang sesuai dengan gambar di samping adalah
- bola lampu lebih ringan daripada gembok
 - bola lampu lebih berat daripada gembok
 - bola lampu sama berat dengan gembok

II. Isilah titik- titik dibawah ini dengan jawaban yang singkat dan tepat !

26.  Banyak bola disamping ada

27.
$$\begin{array}{r} 42 \\ 9 \\ \hline \dots \end{array}$$

28. $37 + 13 = 13 + \dots$



Gambar di atas yang paling ringan adalah

30. Bentuk panjang dari 47 adalah

31. Nenek mempunyai 37 permen. Diberikan kepada kakak 10 permen. Diberikan kepada adik 5 permen. Permen nenek sekarang tinggal

32. 30, 33, 36, ...
Bilangan yang tepat untuk mengisi titik-titik di atas adalah

33. $35 = 30 + 5$
 $24 = 20 + 4 +$
 $= \dots + \dots$
 $= \dots$

34. Lambang bilangan empat puluh dua adalah

35. $33 + 15 + 5 = 33 + (15 + 5)$
 $= \dots + \dots$
 $= \dots$