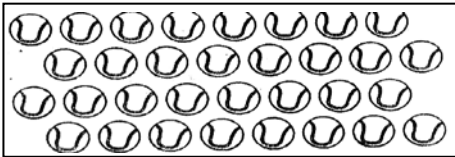




PEMERINTAH KABUPATEN LUMAJANG
DINAS PENDIDIKAN
UPT PENDIDIKAN KECAMATAN SENDURO
UJI KOMPETENSI SEMESTER II SD
TAHUN PELAJARAN 2010/2011


Mata Pelajaran : MATEMATIKA Nama : _____
Kelas : I (Satu) Nomor : _____
Hari / Tanggal : Nilai : _____
Waktu : 90 Menit

I. Berilah tanda silang (x) pada huruf a, b atau c pada jawaban yang paling benar !

1.  Banyak bola ada
a. 31
b. 32
c. 33
2. Di meja ada 28 apel, 34 salak, 19 nanas dan 43 rambutan.
Urutan bilangan dari yang paling besar adalah
a. rambutan, salak, apel, nanas
b. rambutan, apel, salak, nanas
c. nanas , apel, salak, rambutan
3.
$$\begin{array}{r} 45 \\ \underline{15} + \\ \dots \end{array}$$
 Bilangan yang tepat untuk melengkapi penjumlahan di samping adalah
a. 60 b. 50 c. 30
4. Piring ibu ada 68, yang pecah 6
Ibu membeli lagi 12 piring
Piring ibu sekarang ada
Kalimat matematika yang tepat adalah
a. $68 - 6 - 12 = 50$
b. $58 + 6 - 12 = 74$
c. $68 - 6 + 12 = 74$

5. Di kamar mandi ada gayung, timba dan sikat gigi.
Urutan dari yang paling berat adalah
a. sikat gigi, timba, gayung
b. timba, sikat gigi, gayung
c. timba, gayung, sikat gigi
6. Di dalam kolam ada 63 ekor ikan lele, 72 ekor ikan mujair dan 48 ekor ikan mas.
Pernyataan yang tepat adalah
a. Ikan lele lebih banyak dari ikan mujair
b. Ikan mas lebih banyak dari ikan lele
c. Ikan mujair lebih banyak dari ikan lele
7. Nama bilangan 83 adalah
a. delapan tiga
b. tiga puluh delapan
c. delapan puluh tiga
8.
$$\begin{array}{r} 78 \\ \underline{28} - \\ \dots \end{array}$$

Bilangan yang tepat untuk melengkapi pengurangan di atas adalah
a. 60 b. 50 c. 58
9. Pohon manggis paman berbuah 62 buah.
Kemarin dipetik ayah 18 buah,
yang belum di petik yaitu ... buah
Kalimat matematika yang benar adalah
a. $62 + 18 = 80$ b. $62 - 18 = 58$ c. $62 - 18 = 44$
10. Berat 1 bola = 5 kelereng,
maka berat 3 bola = ... kelereng.
Bilangan yang tepat adalah
a. 8 b. 15 c. 20



Yang paling banyak adalah

- a. gelas b. topi c. buku

12. Bentuk panjang dari bilangan 70 adalah

- a. $70 + 0$ b. $7 + 10$ c. $7 + 0$

13. $45 + 54 = 54 + \dots$

Bilangan yang tepat untuk mengisi titik-titik di atas adalah

- a. 99 b. 54 c. 45



Gambar di atas yang paling berat adalah

- a. kucing b. ikan c. kupu kupu

15. Benda - benda di bawah ini yang berbentuk segi empat adalah

- a. sapu tangan, topi dan kertas
b. handuk, sapu tangan dan kertas
c. buku, TV dan almari



Yang jumlahnya sama banyak adalah

- a. permen dan mangga
b. strawberi dan mangga
c. strawberi dan permen

17. Pada bilangan 90, angka 0 menempati

- a. puluhan b. ratusan c. satuan

18. $26 + 12 + 21 = \dots$

Pengelompokan yang benar adalah

- a. $26 + (12 + 21) = 26 + 33 = 59$
b. $26 + (12 + 21) = 26 + 21 = 47$
c. $26 + (12 + 21) = 26 + 12 = 48$


19. Ani membawa payung

Shinta membawa pisau

Kiki membawa tas

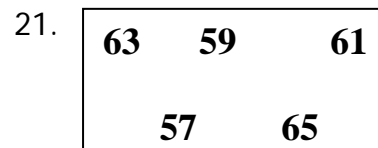
Benda yang paling ringan dibawa oleh

- a. Shinta
b. Ani
c. Kiki



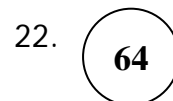
Banyaknya lingkaran ada

- a. 2
b. 3
c. 4



Urutan dari yang terbesar adalah

- a. 57,61,59,63,65
b. 75,59,61,63,65
c. 57,59,63,61,65



Nilai angka 6 pada bilangan di samping adalah

- a. 65 b. 60 c. 6

23. Dalam kelas ada 23 anak laki laki dan 28 anak perempuan.

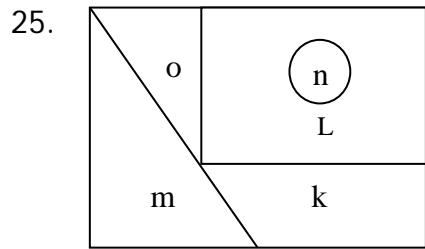
Jumlah anak dalam kelas ada

- a. 51 b. 61 c. 63





Pernyataan yang sesuai dengan gambar di samping adalah

- a. Beras lebih berat dari pada pisang
b. Beras lebih ringan dari pada pisang
c. Beras dan pisang sama berat



Bangun segitiga ditunjukkan gambar pada huruf
 a. k dan n
 b. m dan o
 c. i dan p

II. Isilah titik-titik di bawah ini dengan jawaban yang tepat !

1.  Jumlah pensil ...  dari jumlah lampu

2. Bentuk panjang dari 59 adalah

3. $42 = \dots + \dots$


$36 = \underline{\dots + \dots} +$
 $= \dots + \dots$
 $= \dots$

4. $17 + 13 + 24 = (17 + 13) + 24$

$= \dots + \dots$
 $= \dots$


5. Nenek mempunyai 48 permen. Diberikan kakak 12 permen. Diberikan Adi 10 permen. Permen nenek sekarang tinggal

6. Lambang bilangan enam puluh enam adalah

7.  Angka yang menempati satuan adalah

8. 53
 $\underline{17}$ -

9. $42 + 16 = \dots + 42$

10.  Gambar disamping mempunyai sisi sebanyak