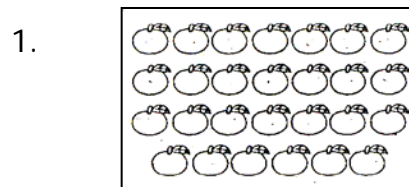




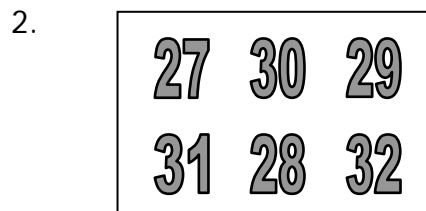
PEMERINTAH KABUPATEN LUMAJANG
DINAS PENDIDIKAN
UPT PENDIDIKAN KECAMATAN SENDURO
UJI KOMPETENSI SEMESTER II SD
TAHUN PELAJARAN 2009/2010

Mata Pelajaran	: MATEMATIKA	Nama	: _____
Kelas	: I (Satu)	Nomor	: _____
Hari / Tanggal	: Kamis, 17 juni 2010	Nilai	: _____
Waktu	: 07.30-09.00		

I. Berilah tanda silang (x) pada huruf a, b atau c di depan jawaban yang paling benar !



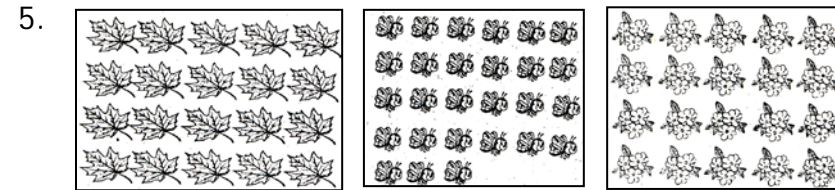
Banyak jeruk ada
 a. 27
 b. 28
 c. 29



Urutan dari yang terbesar adalah
 a. 32, 31, 29, 30, 28, 27
 b. 32, 30, 31, 29, 28, 27
 c. 32, 31, 30, 29, 28, 27

3. Nama bilangan 67 adalah
 a. Tujuh puluh enam
 b. Enam puluh tujuh
 c. Enam tujuh

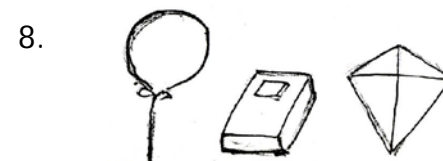
4. Bentuk panjang dari bilangan 50 adalah
 a. $5 + 0$ b. $5 + 10$ c. $50 + 0$




Yang jumlahnya sama banyak adalah
 a. Daun dan bunga
 b. Daun dan lebah
 c. Lebah dan bunga

6. $23 + 34 = + 23$
 Bilangan yang tepat untuk mengisi titik-titik di atas adalah
 a. 34 b. 57 c. 80

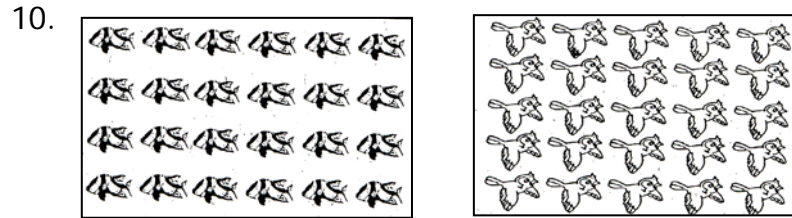
7. Paman mempunyai ayam 47 ekor
 Paman juga mempunyai itik 25 ekor
 Binatang piaraan paman seluruhnya ada
 a. 62 b. 67 c. 72



Gambar di atas yang paling berat adalah
 a. Buku b. Balon c. layang-layang



Bangun segi tiga ditunjukkan oleh gambar nomor
 a. 1 b. 2 c. 3



Pernyataan yang tepat adalah

- a. Ikan lebih banyak dari pada burung
- b. Burung lebih banyak dari pada ikan
- c. Ikan sama banyak dengan burung

11. Di meja makan ada 58 piring, 47 sendok, 54 gelas dan 50 garpu.

Urutan benda dari yang paling sedikit adalah

- a. Sendok, garpu, gelas, piring
- b. Sendok, garpu, piring, gelas
- c. Sendok, gelas, garpu, piring

12. Pada bilangan 60, angka 0 menempati

- a. Puluhan
- b. Ratusan
- c. Satuan

13. 39 Bilangan yang tepat untuk melengkapi penjumlahan di samping adalah

- $\begin{array}{r} 25 \\ + \\ \hline \end{array}$
- a. 54
 - b. 64
 - c. 74

14. Berat 1 nanas = 3 apel, maka berat 3 nanas = . . . apel bilangan yang tepat adalah

- a. 7
- b. 8
- c. 9


15. Di dalam bis ada 55 orang
Ditengah jalan ada yang turun 12 dan ada yang naik lagi 7.
sekarang di dalam bis ada . . . orang.
Kalimat matematika yang tepat adalah

- a. $55 - 12 - 7 = 36$
- b. $55 - 12 + 7 = 50$
- c. $55 + 12 + 7 = 74$




Gambar disamping yang paling ringan adalah

- a. Salak
- b. Nanas
- c. Pepaya



Banyaknya lingkaran ada

- a. 4
- b. 5
- c. 6



Yang paling banyak adalah

- a. Burung
- b. Kupu-kupu
- c. Ayam

19. 87 Nilai angka 7 pada bilangan di samping adalah

- a. 87
- b. 70
- c. 7

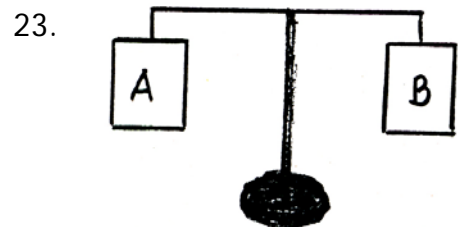
20. 78 Bilangan yang tepat untuk melengkapi pengurangan di samping adalah

- $\begin{array}{r} 26 \\ - \\ \hline \end{array}$
- a. 84
 - b. 52
 - c. 62

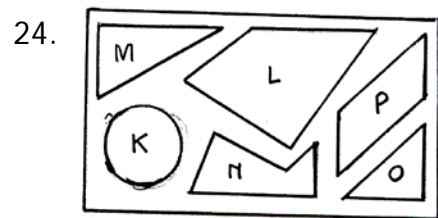
21. $23 + 17 + 22 =$
Pengelompokan yang benar adalah

- a. $(23 + 17) + 22 = 40 + 22 = 62$
- b. $(23 + 17) + 22 = 23 + 39 = 62$
- c. $(23 + 17) + 22 = 30 + 22 = 52$


22. Pohon durian di halaman berbuah 43 buah. Kemarin dipetik ayah 8 buah, yang belum di petik yaitu buah
Kalimat matematika yang benar adalah
a. $43 + 8 = 51$ b. $43 - 8 = 41$ c. $43 - 8 = 35$



- Pernyataan yang sesuai dengan gambar di samping adalah
a. Kotak A lebih ringan dari kotak B
b. Kotak A lebih berat dari kotak B
c. Kotak A sama berat dengan kotak B

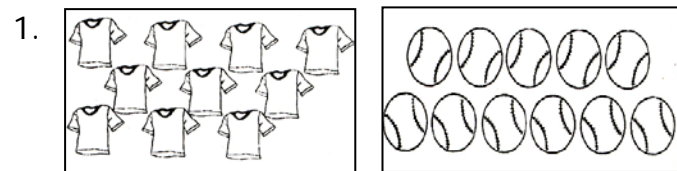


- Bangun segitiga ditunjukkan gambar pada huruf
a. k dan n
b. m dan o
c. l dan p



- Urutan dari yang paling berat adalah
a. gajah, singa, ayam
b. singa, gajah, ayam
c. gajah, ayam, singa

II. Isilah titik-titik di bawah ini dengan jawaban yang tepat !



Jumlah baju dari jumlah bola

2. Bentuk panjang dari 68 adalah

3. 64

18 -

. . .

4. Lambing bilangan tujuh puluh empat adalah

5. 53

26 +

. . .

6. $27 + 14 + 16 = 27 + (14 + 16)$

= . . . + . . .

= . . .

7. 83 Angka yang menempati puluhan adalah

8. $25 + 32 = 32 + . . .$

9. Di kolam terdapat 86 ekor ikan, kemarin di pancing kakak 23 ekor.

Ikan di kolam sekarang ada

10. Gambar disamping berbentuk

