

13. Sholat subuh dilaksanakan pada waktu
a. pagi b. siang c. malam


14. Jam disamping menunjukkan pukul



- a. 09.00
- b. 10.00
- c. 12.00

15. Benda yang bentuknya seperti bola adalah
a. jam b. gelang c. kelereng

16. Pita Budi 15 jengkal, pita Ari 12 jengkal, pita Umi 13 jengkal.
Pita yang paling panjang kepunyaan
a. Budi b. Ari c. Umi



Jarak yang paling dekat dengan Budi adalah
a. kucing b. becak c. mobil

18. Benda yang berbentuk bangun ruang adalah
a. taplak meja b. kertas lipat c. almari

19. Benda yang paling panjang adalah
a. penggaris b. pensil c. pulpen

20. Sekarang hari senin lusa hari
a. Selasa b. Rabu c. Kamis

21. Urutkanlah benda disamping dari yang terbesar



- a. b, a, c b. a, b, c c. b, c, a

22. Benda berbentuk tabung contohnya
a. topi pak tani b. drum c. almari

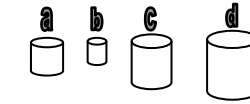
23. Gambar disamping anak mengukur panjang benda dengan satuan



- a. jengkal b. depa c. telapak kaki

24. Almari pakaian adalah benda berbentuk
a. kubus b. balok c. tabung

25. Urutan benda disamping dari yang terkecil
a. d, c, a, b b. b, a, c, d c. d, a, c, b




II. Isilah titik-titik dibawah ini dengan jawaban yang singkat dan tepat !

26. Banyak sendok ada



27. Didi mempunyai kelereng 9 butir, diberi Udin 8 butir.
Kelereng Didi sekarang

28. Jam disamping menunjukkan pukul



29. Nenek memetik buah mangga 17 buah. Diberikan cucunya 8 buah. Mangga nenek sekarang
30. Ibu berangkat ke pasar pukul 08.00. Pulang pukul 10.00. Ibu ke Pasar lamanya
31. 14 hari = ... Minggu
32. Contoh benda berbentuk bola adalah
33. Asti kerumah bibi pada hari Rabu, empat hari lagi ia pulang. Asti pulang pada hari
34. Sisi balok jumlahnya
35. Tiga bulan sebelum bulan April adalah bulan