



12. Kakek mempunyai 13 ekor ayam. Dijual nenek 5 ekor.  
Ayam kakek sekarang adalah . . . .  
a. 8 ekor                      b. 9 ekor                      c. 10 ekor

13.  $17 - 6 = . . . .$   
Bilangan yang tepat untuk mengisi titik-titik di atas adalah . . . .  
a. 10                              b. 11                              c. 12

14. 13, . . . , . . . , 16, 17  
Bilangan yang tepat untuk mengisi titik-titik di atas adalah . . . .  
a. 12 dan 13                      b. 13 dan 14                      c. 14 dan 15

15. Adik mempunyai 8 balon merah dan 6 balon hijau.  
Tiba-tiba ada yang meletus 3. Balon adik sekarang tinggal . . . .  
a. 10                              b. 11                              c. 12

16. Kegiatan yang dilakukan pada malam hari adalah . . . .  
a. bermain                      b. mandi                      c. tidur

17. Kegiatan yang membutuhkan waktu lama adalah . . . .  
a. sekolah                      b. belajar                      c. mandi



Pernyataan yang paling tepat adalah . . . .  
a. Pensil A lebih pendek dari pada pensil B  
b. Pensil A lebih panjang dari pada pensil B  
c. Pensil A sama panjang dengan pensil B

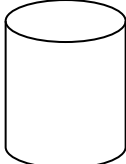
19. Adik tidur selama 2 jam. Jika adik tidur mulai jam 1, maka adik bangun pada jam . . . .  
a. 1                              b. 2                              c. 3

20. Benda di bawah ini yang berbentuk bola adalah . . . .  
a. uang dan kelereng  
b. kelereng dan bola  
c. bola dan uang

21. 4, 6, 8, . . . , . . . .  
Bilangan yang tepat untuk melengkapi urutan di atas adalah . . . .  
a. 10 dan 12                      b. 10 dan 11                      c. 11 dan 12

22.  $8 + 2 + 7 = . . . .$   
a. 17                              b. 18                              c. 19

23. Di kolam ada 16 ekor ikan. Ada yang mati 5 ekor.  
Ayah memasukkan lagi 6 ekor. Jumlah ikan di dalam kolam sekarang menjadi . . . .  
a. 17 ekor                      b. 18 ekor                      c. 19 ekor


24.  Gambar di samping berbentuk . . . .  
a. balok  
b. kerucut  
c. tabung

25. Benda di bawah ini yang berbentuk balok adalah . . . .  
a. gelas                              b. kardus                              c. toples

**II. Isilah titik-titik di bawah ini dengan jawaban yang benar !**

26.  Jumlah baju ada . . . .

27.  Jumlah katak lebih . . . dari pada jumlah ikan

28. 

Urutan dari yang paling besar adalah . . . .

29. 1 7

7 \_

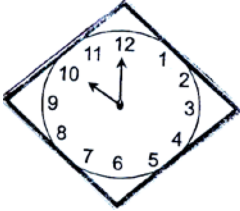
. . . .

30. Kelinci kakek 9 ekor, membeli lagi 5 ekor.

Kelinci kakek sekarang menjadi . . . ekor.

31. Pohon jeruk di halaman berbuah 15 buah


Setelah dipetik tinggal 9 buah. Yang dipetik sebanyak . . . buah.

32.  Jam disamping menunjukkan pukul . . . .

33. Ikat pinggang itu panjang, penggaris itu . . . .

34. 

Panjang tali ada . . . jengkal.

35.  Bilangan di samping dibaca . . . .